

Cuadernillo

Aprende Matemáticas con La Tiendita
Diversión y Aprendizaje en Compras



@TuPortalEducativo



<https://portaleducativo10.com>



t.me/TuPortalEducativo



Nombre: _____

Fecha: / /

LA TIENDITA

Observa los precios y responde



\$25



\$15



\$18



\$10

¿Qué producto es el más caro?

¿Qué producto es el más económico?

¿Qué producto suman un total de 40?

¿Si compro todos los productos cuánto sería en total?



Nombre: _____


Fecha: / / _____

LA TIENDITA

Observa los precios y responde



\$14



\$18



\$7



\$15

¿Qué producto es el más caro?

¿Qué producto es el más económico?

¿Qué producto suman un total de 25?

¿Si compro todos los productos cuánto sería en total?



Nombre: _____

Fecha: / / _____

LA TIENDITA

Observa los precios y responde




\$35



\$22



\$19



\$45

¿Qué producto es el más caro?

¿Qué producto es el más económico?

¿Qué producto suman un total de 86?

¿Si compro todos los productos cuánto sería en total?




Nombre: _____

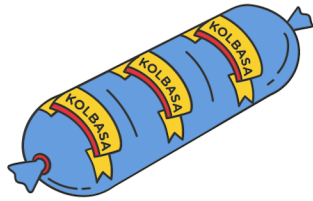
Fecha: / / _____

LA TIENDITA

Observa los precios y responde



\$5



\$4



\$16



\$28

¿Qué producto es el más caro?

¿Qué producto es el más económico?

¿Qué producto suman un total de 20?

¿Si compro todos los productos cuánto sería en total?




Nombre: _____

Fecha: / / _____

LA TIENDITA

Observa los precios y responde



\$7



\$52



\$9



\$35

¿Qué producto es el más caro?

¿Qué producto es el más económico?

¿Qué producto suman un total de 52?

¿Si compro todos los productos cuánto sería en total?



Nombre: _____

Fecha: / / _____

LA TIENDITA

Observa los precios y responde




\$27



\$30



\$66



\$81

¿Qué producto es el más caro?

¿Qué producto es el más económico?

¿Qué producto suman un total de 108?

¿Si compro todos los productos cuánto sería en total?
